



Matemàtiques 3

16

Solucions

Atenció a la diversitat

- Fixa't en els valors que hi ha escrits en aquesta taula i completa-la:

x	2	4	6	8	10
1	2	4	6	8	10
2	4	8	12	16	20
3	6	12	18	24	30
4	8	16	24	32	40
5	10	20	30	40	50

Ara, encercla les respostes correctes:

- Quina columna té uns valors (de dalt a baix) que coincideixen amb els valors (d'esquerra a dreta) de l'última fila?

la primera

la tercera

la sisena

la quarta

- Quina fila té els mateixos valors que els de la tercera columna?

la primera

la segona

la sisena

la tercera

- Quina columna té uns valors que coincideixen amb els de la penúltima fila?



















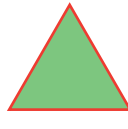






















la quarta

la cinquena

l'última

la segona

- Completa aquesta taula de doble entrada amb la figura i el color adequats. Fixa't en els exemples:

Ara, encercla la resposta correcta:

- Quina informació dona la columna de l'esquerra?

el tipus de quadrilàter

el tipus de cercle

el tipus de figura

el tipus de triangle

- Quina informació dona la fila de dalt de tot?

forma de la figura

color de la figura

mida de la figura

contorn de la figura