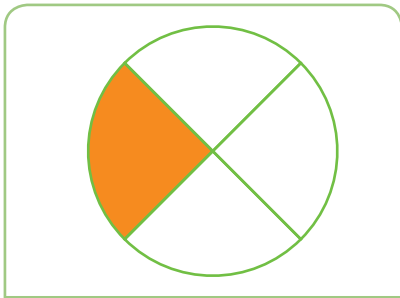


OBSERVEM I ANALITZEM

1 Observa els gràfics següents i esbrina quines fraccions hi ha representades. Escriu-les també amb lletres:



.....

Amb paraules:

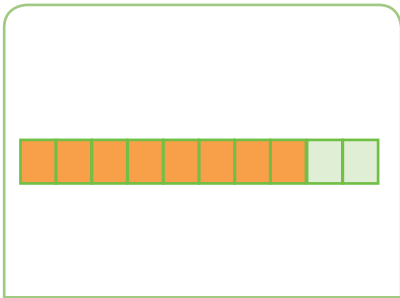
.....



.....

Amb paraules:

.....



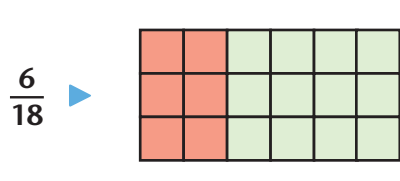
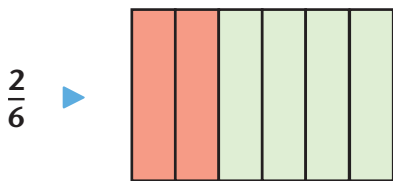
.....

Amb paraules:

.....

ANALITZEM

2 Fixa't en les representacions de les fraccions $\frac{2}{6}$ i $\frac{6}{18}$ i contesta:



- La part pintada en el rectangle de la fracció $\frac{2}{6}$ és més gran, igual o més petita que la fracció $\frac{6}{18}$?
- Quin és el resultat de dividir el numerador de les dues fraccions?
I els denominadors?