


1 Observa els senyals de trànsit i omple la taula:

SENYAL	ÉS UN POLÍGON	QUANTS COSTATS TÉ?	QUANTS VÈRTEXS TÉ?	ÉS REGULAR?	QUANTES DIAGONALS TÉ?
					
					
					
					
					
					


2 Dibuixa:




Polígon de 5 costats



Polígon de 6 vèrtexs



Trapezi



Polígon amb 2 diagonals

NOM: DATA:

NOM: