


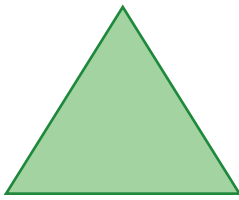


1 Encercla les figures que siguin polígons:



2 Relaciona cada element d'un polígon amb la definició corresponent:

Vèrtex •

Angle •

Costat •

• Segment que forma part de la línia tancada del polígon

• Punt on s'ajunten dos costats

• Zona que hi ha entre dos costats i un vèrtex

3 Observa la capsa de dònuts i respon les preguntes:



• Quantes files i columnes hi ha? .....

• Descriu el dònut de la segona fila i la segona columna.

.....

• Si la meitat dels dònuts són farcits de xocolata, quants dònuts farcits hi ha?

.....

.....

DATA: .....

NOM: .....